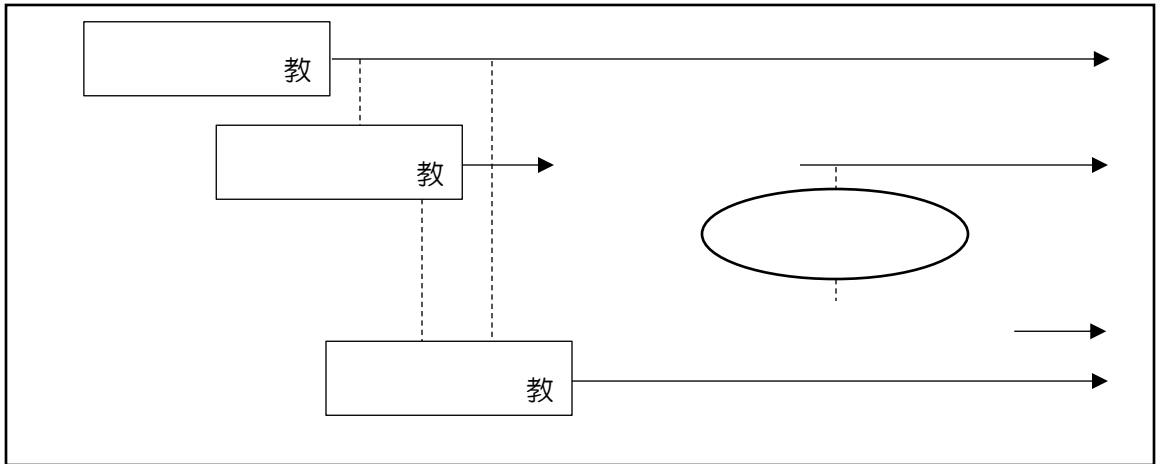


めあて：ヨーロッパ諸国が植民地を拡大した背景を理解する



① エルサレム（聖地）の存在

- ・イスラム勢力が領土を拡大して（ ）を奪う
→ローマ教皇の呼びかけで（ ）の遠征が行われる
- ・14、15世紀頃には、古代のギリシャ・ローマ文化を復興させようという動きがおこる
→（ ）…モナ・リザ（レオナルド・ダ・ヴィンチ）
ダビデ像（ミケランジェロ）

② 宗教改革

- ・ローマ教皇が免罪符を売り出す…聖書の教えから反する動き
→（ ）やカルバンらによって、（ ）がおこる
旧教（ ）の批判をして、新教（ ）が誕生する
- ・ヨーロッパでの衰退から、カトリック教会は、（ ）をつくり、
海外への布教活動をすすめる

③（ ）の始まり

【クイズ1】当時、ヨーロッパの社会で「金」と同じ価格だった食品はどれだろう??

- ① はちみつ ② 胡椒（コショウ） ③ 粉チーズ ④ 牛肉

【考察1】なぜ、“それ”が高値で取引されていたのだろう?

・() の獲得を求めて新航路の開拓を目指す

写真	名前	年代	内容
		1492年	<ul style="list-style-type: none"> ・() に到着 → アメリカ大陸の発見 → 植民地支配 (インカ帝国などを滅ぼす) ・スペイン人
		1498年	<ul style="list-style-type: none"> ・() に到着 → インド洋や東南アジア、中国や日本との中継貿易を行う ・ポルトガル人
		1522年	<ul style="list-style-type: none"> ・世界一周に成功 (フィリピンで先住民との戦いに敗れて死亡) ・ポルトガル人

【まとめ】 ヨーロッパによる植民地の獲得への動きが広まった理由

- ・
- ・
- ・

【チャレンジ問題】

- ① 聖地エルサレムの奪還のために派遣した軍隊を何というか。 _____
- ② ルターを中心として、免罪符発行の批判をした動きを何というか。 _____
- ③ カトリックから、新たに誕生したキリスト教の宗派を何というか。 _____
- ④ アジアから何を求めるために、大航海時代が始まったか。 _____
- ⑤ 西インド諸島を発見した人物は誰か。 _____

めあて

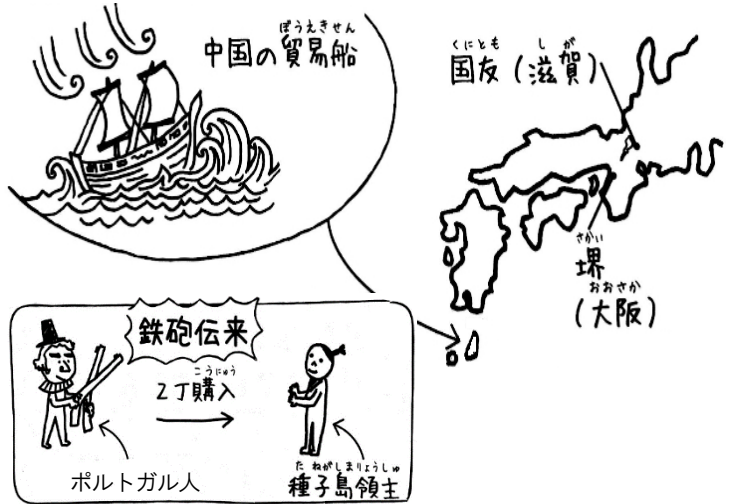
前時の小テスト

ヨーロッパ人がもたらした
社会の変化を理解する

(1)
(2)
(3)

(1) () の伝来

- 1543年
- () に漂着
- () によって
伝えられる
- 堺 (大阪) や 国友 (滋賀) などで
大量生産が行われる



(2) () の伝来

- 1549年
- () が鹿児島に上陸
- キリスト教の宗派は ()
- () の宣教師
- 教会や神学校、孤児院や病院を建て、熱心に
布教活動を行う
- 17世紀はじめ頃に、信者は30万人を越える



(3) ヨーロッパ人との貿易



① () の開始：ポルトガル人やスペイン人との貿易

- ・日本の輸出品：銀
- ・日本の輸入品：()、絹織物、毛織物、鉄砲、ガラス製品 など

<さまざまな文化が日本に伝えわる>

金平糖 ・ かるた ・ ジャガイモ ・ カボチャ ・ スイカ ・ タバコ ・ トウモロコシ ・ カステラ ・ 地球儀 ・ 時計 ・ 世界地図 ・ 望遠鏡 ・ 楽譜 ・ ビスケット ・ 飴 ・ メガネ ・ 鉄砲 ・ 火薬 など
--

② () の誕生
 1582年に九州のキリスト教を信仰する大名が協力し、伊東マンショを中心に4名が選ばれ、ローマ教皇のもとへ派遣された。



【考察1】なぜ、キリスト教は多くの大名に受け入れられたのだろうか？

<自分の考え>	<他の人の考え>
---------	----------

【チャレンジ問題】

- 1543年に、日本に鉄砲が伝わった場所はどこか。 _____
- 1549年に、日本にキリスト教を布教した人物は誰か。 _____
- ②の人物が所属していた、布教を目的とした会を何というか。 _____
- ポルトガル人やスペイン人との貿易を何というか。 _____
- キリスト教を信仰している大名を何というか。 _____

めあて

前時の小テスト

全国統一への流れと信長の政策を理解する

- (1)
- (2)
- (3)

【調査1】教科書 p108、109 を参考にして、下の表を完成させよう

写真	統一事業
 <p>名前 「 」</p>	<p>・愛知県（尾張）の戦国大名 「鳴かぬなら ほととぎす」</p> <p>① 1560年、（ ）で、駿河の有力大名である（ ）を倒す。</p> <p>② 1568年、（ ）を、室町幕府 15代将軍にする。貿易都市である 堺 を支配する。</p> <p>③ 1573年、室町幕府を滅ぼす。</p> <p>④ 1575年、（ ）で、甲斐の有力大名である 武田勝頼 を倒す。</p> <p>⑤ 1576年、拠点として（ ）を建てる。</p> <p>⑥ 1582年、（ ）で、家臣である（ ）の謀反により自害する。</p>
 <p>名前 「 」</p>	<p>・愛知県（尾張）の農民（足軽）出身 「鳴かぬなら ほととぎす」</p> <p>① 1582年、織田信長を破った（ ）を倒す。</p> <p>② 1583年、拠点として（ ）を建てる。</p> <p>③ 1585年、朝廷から（ ）に任命される。 → 全国の大名に戦いの中止を求める。</p> <p>④ 1890年、中止に従わなかった、島津氏（九州）、北条氏（関東）、奥州（東北）を平定し、全国統一を果たす。</p>

【考察1】長篠の戦いの一場面！どちらが織田軍でどちらが武田軍？ 戦い方はどう違う？



	軍	戦い方
左側		
右側		

○ 織田信長の政策

・() の実施


⇒ 城下町では、() を廃止して、自由な商売活動を認める
各地の() を廃止し、移動をスムーズにした

【考察2】なぜ、「座」を廃止することで自由な商売活動ができるようになったのか？

Q 座って何？



Q 座がないということは・・・



【チャレンジ問題】

- ① 1575年に、武田の騎馬隊を破った戦いを何というか。 _____
- ② 1582年に、織田信長が自害に追い込まれた事件を何というか。 _____
- ③ 織田信長が城下町に出した商工業を発達させた法令を何というか。 _____
- ④ 豊臣秀吉が朝廷より任命された役職とは何か。 _____
- ⑤ 織田信長と豊臣秀吉の城をそれぞれ何というか。 _____

めあて

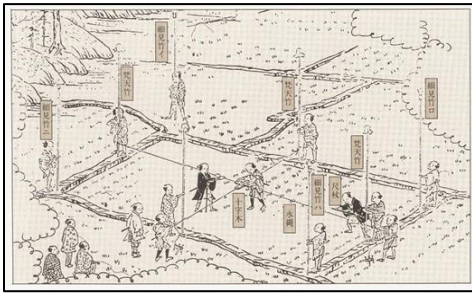
秀吉の国内統制と対外政策について理解する

前時の小テスト

- (1)
- (2)
- (3)

(1) 秀吉の2大政策

【考察1】この絵は何をしている様子だろう？




どんなことをしている？


⇒ ()

…土地の予想収穫量は () で表された。
 …土地の所有者は () に登録された
 …調べるはかりを () に統一した

石高…米の体積
 1石の重さは約 150kg で、大人
 が1年間に食べる量とされる



【考察2】下の写真は何をしている様子だろう？



どんなことをしている？

⇒ ()

【考察3】これらの出来事によって、どんな社会になっただろう？

<自分の考え>

<他の人の考え>

⇒ ()

(2) 秀吉の対外政策

① ()

【考察4】“この命令”が、どのような内容のものか
読み取ってみよう (3つくらい)

理由 ⇒ ()

結果 ⇒ ()

一、日本は神国であるから、キリシタンの国から悪い教えを受けるのは非常によくはない。一、キリシタン大名が領民に布教して信者とし、彼らを動かして神社や寺を破壊しているという。このようなことは前代未聞のことである。……

一、バテレンは、その知識によって信者を増やしていると思っていたが、日本の仏教を破壊するけしからんことをしている。よって、二十日以内に日本を退去せよ。……

一、ポルトガル・スペイン船は商売目的の船なので、今後再来航して、いろいろと売買をしてよい。

(松浦家文書「より」)

解説 1587年の九州平定のさい、長崎がイエズス会領となっていることを知った秀吉は、バテレン追放令を出して禁教政策をとった。下は、長崎で殉教した26聖人記念碑である。

② 朝鮮出兵

- 全国統一を果たした後、日本から世界 (アジア統一) へ目を向ける
- アジアの中心の国はどこ? → ()
- 1592年: ()
- 朝鮮に15万の大軍を率いて戦いを挑む → () 率いる、朝鮮水軍に敗れて撤退
- 1597年: ()
- ふたたび攻めるが前回以上に苦戦を強いる。秀吉の病死により撤退

【チャレンジ問題】

- ① 農民から鉄砲、弓、やりなどを取り上げた政策を何というか。 _____
- ② ①の政策により、何に専念させ、何を防ごうとしたか。 _____
- ③ 全国の土地を整理した政策を何というか。 _____
- ④ ①と③により、武士と農民との身分が明確にされたことを何というか。 _____
- ⑤ 1587年に出された、キリスト教を追放する政策を何というか。 _____

めあて

信長や秀吉が活躍した時代の特色を理解する

前時の小テスト

- (1)
- (2)
- (3)

◎ 南蛮貿易が盛んに行われる → ヨーロッパ文化の導入

↓
キリスト教徒の増加

パン、カステラ、カルタ、天文学、医学、航海術
ローマ字、活版技術、衣服 (ひだのあるえり) など

【考察1】右の書物は一体なんだろう???

キリシタン版の ()

⇒ 天草のイエズス会の学校から発行



※ヨーロッパの文化から影響を受けて成立した

芸術や流行の風俗

⇒ ()

◎ 庶民文化の広がり

- かぶき踊りが人気になる → ()
- 三線 (さんしん) → ()
- 木綿の衣服
- たばこの習慣



◎ 金山・銀山の開拓

⇒ () ・ ()

◎ 権力者の支配の拡大



- 天守閣をもつ
- 柱や欄間に彫刻
- ()



唐獅子図屏風

()

() 文化とは…
大名や大商人が楽しむ



()

()

→ 信長や秀吉につかえる
「わび茶」の作法を完成

(1) 人物問題

年代	おもなできごと
1543年	ポルトガル人を乗せた船が(①)島に漂着し、(②)を伝える。
1549年	(③)会の宣教師(④)が、鹿児島に上陸し、キリスト教を伝える。 ポルトガルやスペイン(1584年～)などの(⑤)人との(⑤)貿易。 日本は、生糸や絹織物などを輸入し、(⑥)を輸出。
1560年	(⑦)が、桶狭間の戦いで今川義元を破る。
1573年	(⑦)が、足利義昭を追放して(⑧)幕府をほろぼす。
1575年	(⑦)が、(⑨)の戦いで(②)を有効に使って武田氏を破る。
1576年	(⑦)が、琵琶湖のほとりに(⑩)城を築き、 (⑩)の城下で、座の特権を廃止し、税を免除する(⑪)の政策を行う。
1582年	(⑫)の変がおこり、(⑦)が家臣の(⑬)に攻められ自害。 (⑭)が(⑬)を倒し、信長の後継者争いに勝利。 (⑭)が、(⑮)検地を行い、収穫高を(⑯)高で表した。
1588年	(⑭)が、(⑰)令を出し、農民などから刀や弓、やり、鉄砲などの武器を取り上げた。これによって(⑱)分離が進んだ。
1590年	(⑭)が全国を統一。
1592年	明の征服を目指して(⑲)侵略。亀甲船を率いる(⑳)に敗れる。

①	②	③	
④		⑤	⑥
⑦	⑧	⑨	⑩
⑪	⑫	⑬	⑭
⑮	⑯	⑰	⑱
⑲	⑳		

(2) 文化

特色	(①)文化：豪華で壮大な文化。 (②)文化：ヨーロッパの文化から影響を受けた文化。
内容	(③)城(別名白鷺城)などには高くそびえる(④)がつけられた。 ふすまや屏風には(⑤)(唐獅子図屏風の作者)らの絵がえがかれた。 茶の湯：(⑥)がわび茶の作法を完成させた。 かぶき踊り：出雲の(⑦)


①	②	③	④
⑤	⑥	⑦	

めあて

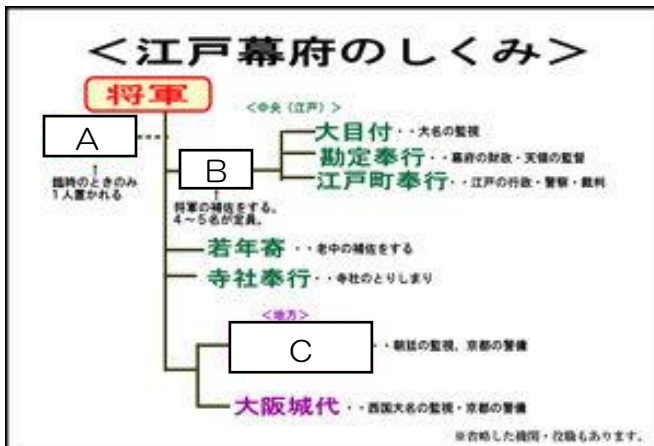
前時の小テスト

江戸幕府の成立過程と支配構造を理解する

- (1)
- (2)
- (3)

写真	統一事業
 <p>名前「 1542~1616年 (75歳)」</p>	<ul style="list-style-type: none"> ・愛知県(三河)の戦国大名 ・幼少期は人質として、今川家や織田家で生活していた <p>「鳴かぬなら ほととぎす」</p> <ol style="list-style-type: none"> ① 1590年、秀吉により、領地を江戸に移される。 → 埋め立てなどを行い、関東の整備を進める ② 1597年、秀吉が病死する。 ③ 1600年、徳川家と豊臣家の天下分け目の合戦ともいわれる()がおこり、勝利をおさめる。 → 西軍() (豊臣方) VS 東軍 徳川家康 10万の軍勢 8万の軍勢 ④ 1603年、朝廷から()に任命され、()幕府を開く。 ⑤ 1614年、() 1615年、() <p>豊臣氏滅亡 徳川家が日本唯一の最高権力者になる</p>

<江戸幕府の組織図>



A : ()
⇒必要に応じて置かれた最高職

B : ()
⇒幕府の政治の責任者(将軍の補佐)常に数人いる

C : ()
⇒朝廷の監視

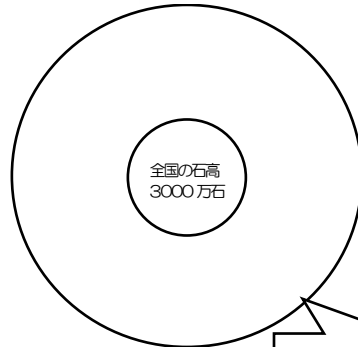
【調査1】教科書P.117の本文や「おもな大名の配置」を見て、大名の種類やそれぞれがどこに配置されているのかを調べてみよう！

- ① ()
→ 徳川氏の一族(親戚)
※ この中でも、「尾張」「水戸」「紀伊」の3つの藩は特に重んじられ、御三家とよばれた
- ② ()
→ 徳川氏の「関ヶ原の戦い以前」からの家臣
- ③ ()
→ 「関ヶ原の戦い以後」に徳川氏に従うようになった大名



【作図1】江戸幕府の権力を調べよう！！

- 全国の米の取れる量(石高)は3000万石
- 徳川家康の幕領は400万石
- 徳川家康の家来の領地は350万石
- 残りの領地は約300の大名が支配



※ 三都(江戸・大阪・京都)、長崎、鉱山の支配

※ 江戸時代初期、それぞれの()は、およそ200程度存在していた。今でいうと、県が200あるようなもの。その中で、金沢(加賀藩)は100万石を超える数少ない有力藩であった。ちなみに、山口(長州藩)は30~40万石で全国有数の大名だった。

【チャレンジ問題】

- ① 天下分け目の合戦とも呼ばれる、1600年におこった戦いとは何か。 _____
- ② ①の戦いに勝った、東軍の大將とは誰か。 _____
- ③ 常に置かれており、将軍の補佐役として政治を行う役職を何というか。 _____
- ④ 徳川家の親戚の大名のことを何というか。 _____
- ⑤ 天下分け目の合戦以降に、徳川家の家臣になった大名を何というか。 _____

めあて

幕府による大名の支配と民衆の生活の変化を理解する

前時の小テスト

- (1)
- (2)
- (3)

Q. 右の写真は、何の様子を表したものでしょう？

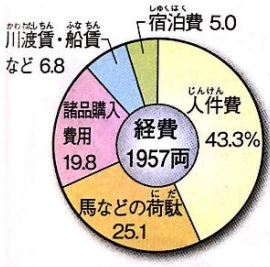
- ・一年おきに領地と江戸を往復する
- ・妻子は人質として江戸で生活をしなければならない
- ・費用は各藩で負担する



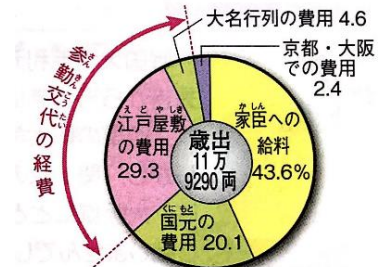
☆ ()

<例> 大名行列にかかる費用 (鳥取藩、)

1年間の支出に占める割合 (松江藩)



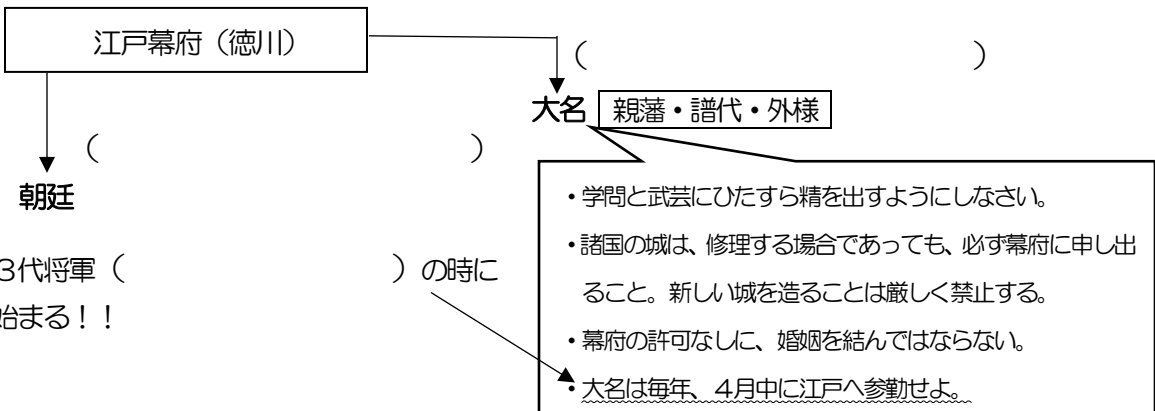
江戸までの日数 21泊22日
 江戸までの距離 約702km (180里)
 一日平均 約32km (8.2里)
 1両=10万円と換算すると
 1億9570万円の経費となる



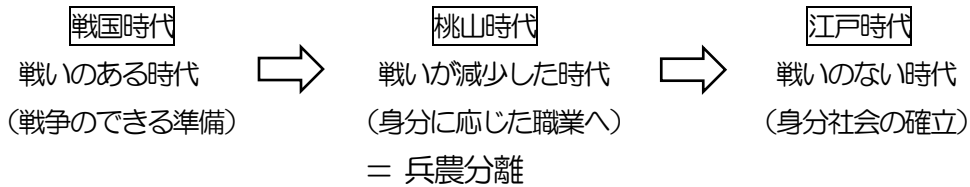
【考察1】なぜ、“これ”をしたのだろうか？

<自分の考え>	<他の人の考え>
---------	----------

<幕府の支配> = () : 幕府と藩による人民の支配



<身分制度の確立>



【考察2】 Q. 江戸時代の武士の人数は総人口の何%だろう??

予想 (%) -----▶ 正解 (%)

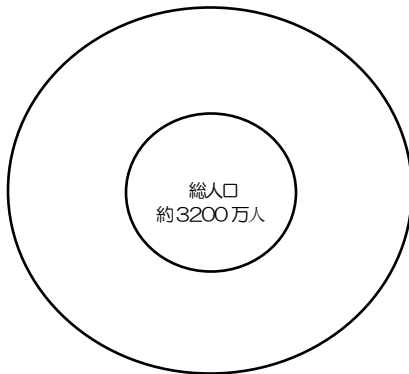
Q. 武士だけが持つことを許された特権とは何だろう??

私の名前は、
〇〇 △△です



<予想>	<正解>

【作業1】 教科書P123を参考に総人口の割合をグラフで表そう



- 身分は大きく分けて
()()()
に分類される
- 差別をうけた人々
()・()

【チャレンジ問題】

- ① 大名が1年おきに江戸と領地を往復することを何というか。 _____
- ② ①の制度を始めた、3代将軍の名前を何というか。 _____
- ③ ①の内容が記された、幕府が大名を統制するための法律を何というか。 _____
- ④ 幕府と各地の大名により、全国の土地と人々を支配する制度は何か。 _____
- ⑤ 武士に与えられていた特権を2つ答えなさい。 _____


めあて

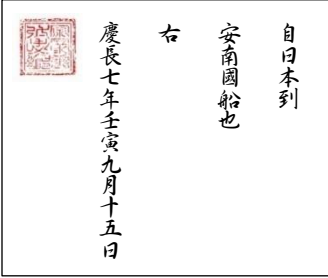
前時の小テスト

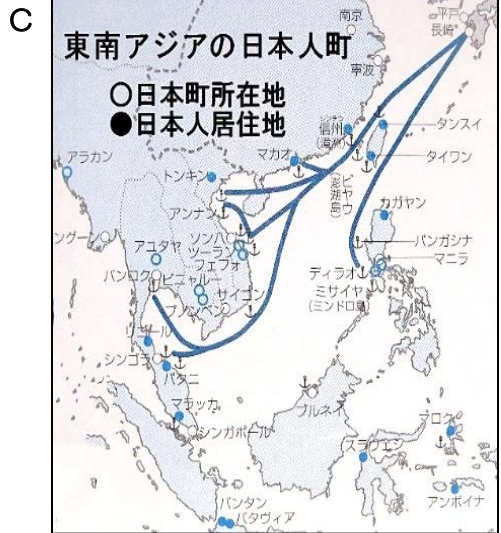
幕府の行った「鎖国」政策への流れを理解する

- (1)
- (2)
- (3)

【考察1】 3つの資料を見て考えよう！

A  (室町)

B  (江戸)



① Aは室町時代に学習した()である

② Bの資料に書かれていた国を、Cから探し出そう。

⇒ _____

☆ Bの資料は… () という渡航許可状
 赤い印が押されており、() からの許可が記されている
 許可を与えられた商人が () 方面に出掛ける
 多くの移住者が増え、各地に () が形成された
 朱印状を持った船が行っていた貿易を… () という



<幕府のキリスト教に対する対応>

南蛮貿易 (スペイン、ポルトガル) ⇒ 貿易の利益 と _____ の布教

+ オランダ・イギリス が貿易に参加 ⇒ 長崎の () に商館を建てる

- 1613年：全国に () をだす
- 1616年：ヨーロッパ船の来航を長崎・平戸に制限する
- 1623年：イギリスが平戸の商館を閉じる
- 1624年：() の来航を禁止
- 1635年：日本人の海外渡航を禁止・海外に住む日本人の帰国を禁止
- 1637年：九州のキリシタンによる一揆が起こる = ()
- 1639年：() の来航を禁止
- 1641年：平戸のオランダ商館を () に移転した



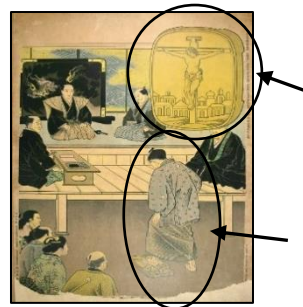
家康(初代将軍)	秀忠(2代将軍)	家光(3代将軍)
外国との貿易を保護 () 貿易 キリスト教も広がる 	全国的にキリシタンが増加 したため、団結などを恐れる ・1612：幕領に禁教令 ・1613：全国に禁教令 ・1616：ヨーロッパ船の来航を 長崎・平戸に制限する 	本格的に取り締まりを強化! ・1624：() 人の 日本への来航禁止 ・1635：日本人の海外への移動・ 海外からの帰国の禁止 ・1637：() が起こり、キリスト教徒 への弾圧が強まる ・1639：() 人の 日本への来航禁止

<島原・天草一揆>

4万のキリシタン VS 幕府軍12万人

⇒ 見せしめのために、城外に1万数千人の首が
 さらされたといわれている
 ⇒ 宗門改帳に記載させ、仏教徒にさせた

⇒ キリシタンではないか
 チェックする




<貿易の統制>

☆ヨーロッパの貿易相手国は () のみ

Q なぜ?

・ () のみで貿易を行う

※ この貿易体制を () という



【チャレンジ問題】

- ① 江戸時代初期に、東南アジア諸国と行った貿易を何というか。 _____
- ② ①の貿易による移住で、東南アジア各地の港にできた町を何というか。 _____
- ③ 1637年に九州でおきた、キリスト教徒による反乱を何というか。 _____
- ④ オランダ商館がおかれた、長崎につくられた人工島を何というか。 _____
- ⑤ 幕府による、禁教・貿易統制など、貿易を制限した状態を何というか。 _____

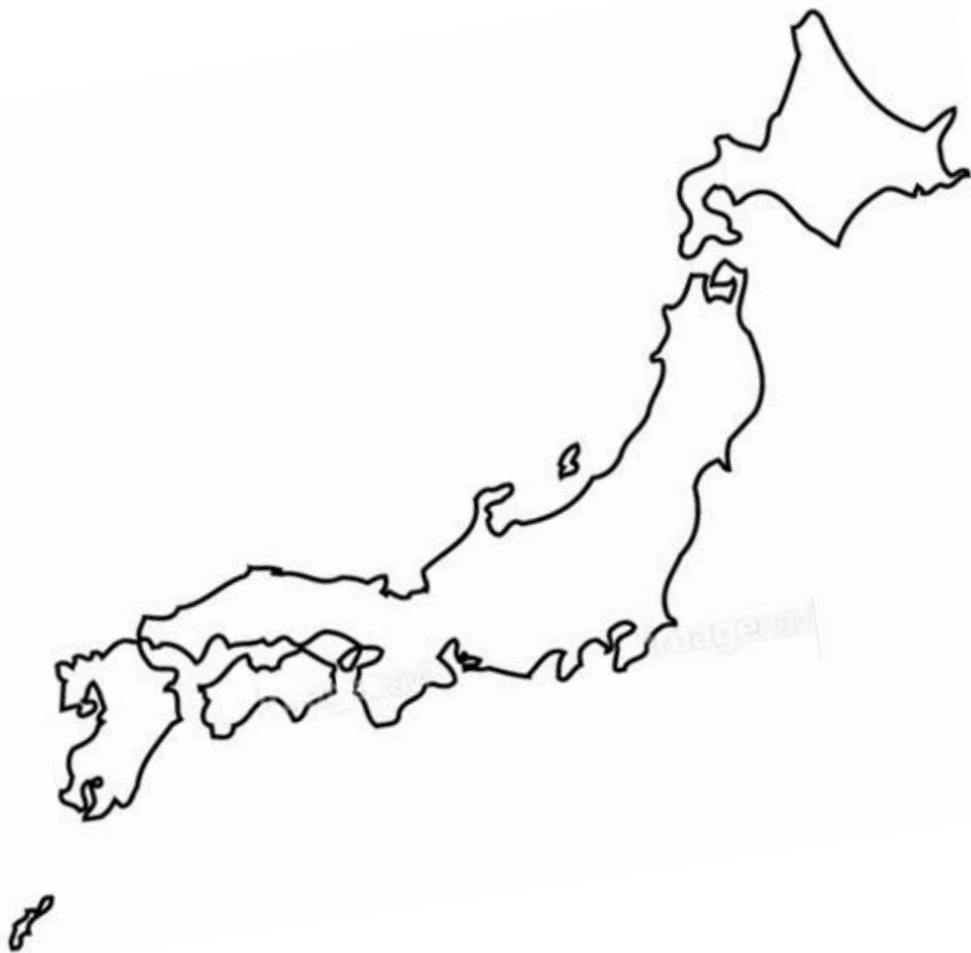
めあて

4つの窓口による海外
との交易を理解する

前時の小テスト

- (1)
- (2)
- (3)

<鎖国下での4つの窓口>



① ヨーロッパ・中国とのつながり

☆ 長崎の（ ）のみで貿易を行う

- ・ヨーロッパでは（ ）のみが貿易を許可された

→ 貿易の際に、海外のできごとを知るために、（ ）を提出させた

- ・中国（ ）とは、長崎で貿易が行われた
- （ ）で取引を行う



外国人は島から外出できないため、ビリヤードや楽器の演奏、オランダ料理などでもてなし、退屈しないようにする。

② 朝鮮とのつながり

- ・国交が回復し、貿易は（ ）藩が中心に行う

→（ ）が、将軍の代替わりごとに江戸を訪れた



③（ ）とのつながり

- ・（ ）藩の島津氏が琉球王国を支配下にいれる

→ 那覇港で貿易を行うとともに、将軍の代替わりごとに幕府に使節を送る


④（ ）とのつながり

- ・北海道の南端に（ ）藩を置き、交易の独占を認める

Q. どのような貿易を行っていたのだろうか？

- ① アイヌ民族と和人（本州に住む人）が対等な関係で行われた。
- ② アイヌ民族を尊重し、アイヌ民族の主張通りに貿易を行った。
- ③ 和人中心の貿易であり、アイヌ民族を強制的に従属させる形で、一方的な貿易を行った。

⇒ 首長である（ ）により、反乱が起きるが幕府により鎮圧



【チャレンジ問題】

- ① オランダが貿易の際に提出した、海外の情勢を記したものは何か。 _____
- ② 17世紀半ばに、満州族が建国した国を何というか。 _____
- ③ 朝鮮から、将軍の代替わりごとに江戸に派遣した使節を何というか。 _____
- ④ 琉球王国との交易を主に行っていたのは、何という藩か答えなさい。 _____
- ⑤ 松前藩との不利な交易に対し起こった、アイヌの戦いを何というか。 _____

めあて

百姓の生活について理解する


前時の小テスト

- (1)
- (2)
- (3)

<百姓の生活>

- 百姓は全人口の () %
- 百姓は農村に住み、幕府や藩の管理下のもと () を納める

土地あり	• () → 中心となって村を自治する
土地なし	• 水のみ百姓



- 村方三役 {
 - ()
 - ()
 - 百姓代
- 幕府や藩の命令の下、村の運営をする寄合を開き、共有地の世話や用水路の管理などの話し合いがされる。
- 年貢の割合 = 5公5民 や 4公6民
- 年貢は幕府や藩の財政を助ける (お金)
- ()
- 犯罪や年貢の納入に対する連帯責任
- ()
- 村の決まりを破ったものに対する罰

幕府は農民をどう見ていたか
〈家康の言葉〉
 「百姓は殺さぬように、生かさぬように年貢を申しつけること。」
〈勘定奉行神尾春央の言葉〉
 「胡麻の油と百姓はしぼればしぼるほど出るものなり。」

五人組のおふれ

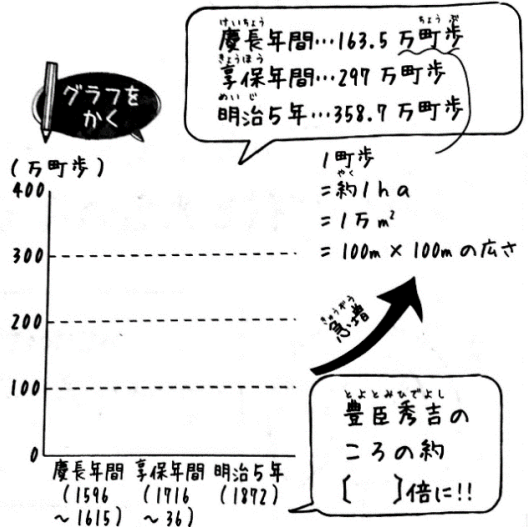
- 一、掟に背いた者、悪事をはたらいた者がいれば、その組の者が報告しなさい。
- 一、田畑を荒地にしてはいけない。身寄りのない百姓が病気で働けない場合は、五人組で助け合って耕作し、年貢を納めるようにしなさい。

<村の人が協力しなくてははいけないこと>
 百姓の仕事は農業なので、何かがあった時は手伝わなければならない!
 出産、病気、成人式、結婚式、葬式、家の新改築の手伝い、水害時の世話、法事、火事、旅行

○ 平和な社会によって、農業に専念できることで、技術が大幅に進歩する！
⇒ () が増える ○ 金肥の使用…

【調査1】 それぞれなんのために使われたものなのだろう？

イラスト	道具の名称と目的
	()
	()
	()



⇒ () の栽培：現金収入を得るために栽培する

【チャレンジ問題】

- 百姓のうち、土地をもつ者を何というか。 _____
- 年貢の納入や犯罪を防ぐため、連帯責任を負わせた制度を何というか。 _____
- 畑を深く耕作するための道具を何というか。 _____
- 稲穂の脱穀能率を上昇させた道具を何というか。 _____
- 米以外の、現金収入を得るために栽培する作物のことを何というか。 _____

めあて

江戸時代の中心地域の様子を理解する

前時の小テスト

- (1)
- (2)
- (3)

(1) 都市の発展

江戸・()・()の三つの都市のことを()という

○ 江戸は「 」と呼ばれる

・江戸は将軍の城下町として栄え、人口は()人を越える！！

○ 京都

・平安時代から天皇の住まいがあり、朝廷が置かれている

・古都であり、古くからの伝統文化や町並みがある

○ 大阪は「 」と呼ばれる

・大阪には諸藩の()が置かれ、全国各地から食材が集められる

⇒()や()など

・大阪に集まった品々は江戸まで運ばれる ⇒ 交通網が整備される



(2) 交通の発達

○ 陸上交通：()

・()

・()

・甲州街道

・日光街道

・奥州街道

○ 海上交通

・()

・()

・大阪一江戸間

→ 米、醤油、油などの食品や日用品：()

→ お酒：()



(3) お金を中心として生活が成り立つ

○ () と呼ばれる、金・銀・銭の交換を行う商人が現れる

→ 主に江戸で金貨、大阪で銀貨が使用される

⇒ () : 金山 (新潟県)

() : 銀山 (島根県)

() : 銅山 (栃木県)



慶長大判
1601年




慶長小判・慶長一分金
1601年



慶長丁銀・慶長豆板銀
1601年



寛永通宝
1636年



【チャレンジ問題】

- ① 全国の商業の中心地であることから、大阪は何と呼ばれていたか。 _____
- ② 諸藩が米や特産物を取り引きするために大阪に置いた施設とは何か。 _____
- ③ 江戸を拠点とする5つの街道のことを何というか。 _____
- ④ 街道を行き来した、手紙や荷物を運ぶ人を何というか。 _____
- ⑤ 島根県にある、現在世界遺産ともなっている銀山の名称は何か。 _____